

**Фонд оценочных средств для промежуточной аттестации обучающихся
по учебному предмету «Окружающий мир»
(типовой вариант)
(2-4 классы)**

Обязательная часть учебного плана.

Предметная область: Обществознание и естествознание «Окружающий мир»

3) природные явления 4) деятельность человека

13. Что не относится к явлениям природы?

- 1) буран 2) полив растений
3) ледостав 4) осадки

14. Что относится к явлениям неживой природы?

- 1) цветение 2) рождение
3) дыхание 4) восход солнца

15. Как называется наука о погоде?

- 1) метеорология 2) экология 3) биология 4) физика

16. Какие птицы не улетают на юг?

- 1) зяблики 2) дятлы 3) гуси 4) чайки

17. Какое место занимает в комнате воздух ?

- 1) потолок 2) пол 3) у окна 4) всю комнату

18. Что такое ветер?

- 1) движение воздуха 2) похолодание 3) движение туч 4) сжатие воздуха

19. Какого цвета воздух?

- 1) белого 2) голубого 3) он бесцветный 4) серого

20. Самое опасное для здоровья загрязнение воды происходит:

- 1) из-за остатков пищи, попавших в воду
2) из-за вредных веществ, выбрасываемых заводами и фабриками
3) из-за попадания песка и глины
4) из-за дождей

21. Как очищается использованная вода?

- 1) в трубах 2) в земле 3) на очистных сооружениях 4) очищается сама

22. Почему на Земле сменяется день и ночь?

- 1) Земля имеет шарообразную форму 3) Земля вращается вокруг своей оси
2) Земля вращается вокруг Солнца 4) Солнце вращается вокруг Земли

23. Что относится к общественным учреждениям?

- 1) улица 2) город 3) жилой дом 4) библиотека

Итоговый тест за 1 четверть по окружающему миру. 2 класс.

Вариант 2.

Часть 1

1. Напиши, как тебя зовут:

Фамилия _____ имя _____
отчество _____

2. Дата моего рождения: число _____ месяц _____ год _____

3. Я проживаю по адресу: улица _____
дом № _____ квартира № _____

4. Страна, в которой ты живешь, называется _____

5. Столица твоей страны _____

6. Город, в котором ты живёшь _____

7. В моём городе течёт река (если есть) _____.

Часть 2

8. В какой строке перечислены символы России?

- 1) герб, флаг, гимн 2)) гимн, граница, флаг
3) национальность, язык, гимн, флаг

9. Что такое природа?

- 1) все живые существа
2) всё, что окружает человека
3) всё, что окружает человека и не сделано его руками
4) всё, что сделано руками человека

10. Что относится к неживой природе?

- 1) дерево 2) гриб 3) озеро 4) рыба

11. Что относится к живой природе?

- 1) вулкан 2) сосулька 3) солнце 4) гриб

12. Как по-другому можно назвать понятия: листопад, молния, перелёт птиц?

- 1) климат
- 2) природные явления
- 3) неживая природа
- 4) деятельность человека

13. Что не относится к явлениям природы?

- 1) заморозки
- 2) полив растений
- 3) радуга
- 4) осадки

14. Как называется наука о погоде?

- 1) метеорология
- 2) экология
- 3) зоология
- 4) астрономия

15. Какие птицы не улетают на юг?

- 1) грачи
- 2) синицы
- 3) гуси
- 4) чайки

16. Какое место занимает в комнате воздух ?

- 1) около кровати
- 2) пол
- 3) у окна
- 4) всю комнату

17. Что такое ветер?

- 1) движение воздуха
- 2) похолодание
- 3) движение туч
- 4) сжатие воздуха

18. Какого цвета воздух?

- 1) белого
- 2) голубого
- 3) он бесцветный
- 4) серого

19. Как очищается использованная вода?

- 1) в земле
- 2) в трубах
- 3) очищается сама
- 4) на очистных сооружениях

20. Что относится к явлениям неживой природы?

- 1) цветение
- 2) рождение
- 3) дыхание
- 4) восход солнца

21. Самое опасное для здоровья загрязнение воды происходит:

- 1) из-за остатков пищи, попавших в воду
- 2) из-за вредных веществ, выбрасываемых заводами и фабриками
- 3) из-за попадания песка и глины
- 4) из-за дождей

22. Укажи причину изменения температуры воздуха в течение года

- 1) Вращение Земли вокруг своей оси
- 2) Изменение высоты Солнца над горизонтом
- 3) Изменение вида осадков

4) Вращение Земли вокруг Солнца

23. Определи вещество по его свойствам.

Прозрачный, бесцветный, твёрдый, холодный на ощупь, тает в тепле – это

_____.

Итоговый тест по окружающему миру, 2 __ класс II четверть

Ф.И. _____ Дата _____ Вариант 1

1. Соедини стрелками:

Природа

Рукотворный мир



2. Заполни таблицу:

	Относится к природе	Создано человеком
Светит		
Плавает		
Летает		

3. Соедини стрелками:

Объекты живой природы

Град
Трава
Лиса
Кошка
Река
Дождь

Объекты неживой природы

4. Вспомни, что такое погода. Выбери и подчеркни из предложенных слов те, по которым можно рассказать о погоде: *большая, температура, осадки, облачность, широкая, ветер, квадрат.*

5. Вспомни группы растений. Здесь спрятались названия трёх групп растений. Найди их и закрась клеточки с буквами карандашами разного цвета.

Е	Р	У	В	Т	Я	Р	Р	И	В	И
Д	К	Е	С	Ь	А	Т	Н	А	К	Ы

6. Приведи по три примера:


Дикорастущие растения:

Культурные растения:

7. Соедини стрелками диких и домашних животных:

Дикие

Домашние



8. Запиши названия комнатных растений _____

9. Приведи примеры пород собак _____

10. Как сберечь воду? Выдели правильный ответ:

г) Не купаться; в) Закрывать кран; б) Не мыть посуду; а) Не чистить зубы.

11. Установи соответствие:

Звери	две ноги, два крыла, перья
Насекомые	четыре ноги, шерсть
Рыбы	шесть ног
Птицы	плавники, чешуя

12. Запиши по 3 примера:

1) насекомые - _____
2) звери - _____
3) рыбы - _____
4) птицы - _____

13. Что называют невидимыми нитями в природе?

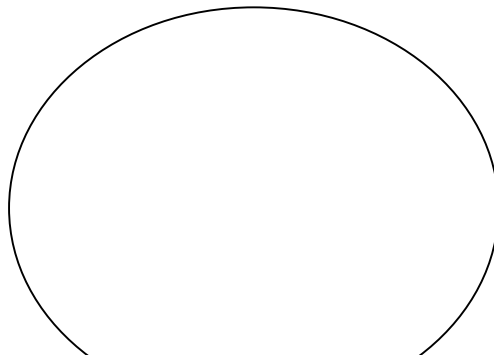
а) Паутина в лесу; б) Корни деревьев; в) Связи в природе.

14. Соедини стрелками, что получает человек от домашних животных?

куры	Молоко, сыр, масло.
пчёлы	Мясо, яйца.
овцы	Мёд, прополис.
корова	Шерсть, мясо.

15. Запиши растения и животных, занесённых в Красную книгу _____

16. Нарисуй экологический знак на тему «Будь природе другом!». Дай ему название.



3 класс

Итоговый тест по окружающему миру

Ф.И. _____ Дата _____ Вариант 2

1. Соедини стрелками:

Природа

Рукотворный мир



2. Заполни таблицу:

Кто? Что?	Относится к природе	Создано человеком
Светит		
Плавает		
Летает		

3. Соедини стрелками:

Объекты живой природы

Снег
Дерево
Заяц
Сова
Камень
Облако

Объекты неживой природы

4. Вспомни, что такое погода. Выбери и подчеркни из предложенных слов те, по которым можно рассказать о погоде: *температура, большая, облачность, широкая, ветер, квадрат, осадки.*

5. Вспомни группы растений. Здесь спрятались названия трёх групп растений. Найди их и закрась клеточки с буквами карандашами разного цвета.

Е	Р	У	В	Т	Я	Р	Р	И	В	И
Д	К	Е	С	Ь	А	Т	Н	А	К	Ы

6. Приведи по три примера:

Дикорастущие растения:

Культурные растения:

7. Соедини стрелками диких и домашних животных:

Дикие

Домашние



8. Запиши названия комнатных растений _____

9. Приведи примеры пород собак _____

10. Как сберечь воду? Выдели правильный ответ:

г) Не купаться; б) Не мыть посуду; в) Закрывать кран; а) Не чистить зубы.

11. Установи соответствие:

Звери _____ две ноги, два крыла, перья

Рыбы _____ четыре ноги, шерсть

Насекомые _____ шесть ног

Птицы _____ плавники, чешуя

12. Запиши по 3 примера:

1) звери - _____

2) птицы - _____

3) рыбы - _____

4) насекомые - _____

13. Что называют невидимыми нитями в природе?

а) Паутина в лесу; в) Связи в природе; б) Корни деревьев.

14. Соедини стрелками, что получает человек от домашних животных?

куры

Молоко, сыр, масло.

корова

Мясо, яйца.

овцы

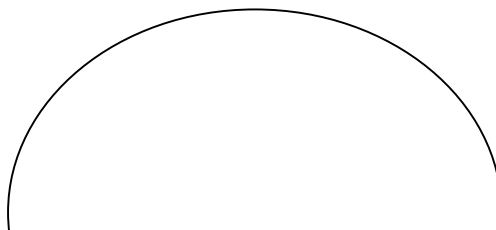
Мёд, прополис.

пчёлы

Шерсть, мясо.

15. Запиши растения и животных, занесённых в Красную книгу _____

16. Нарисуй экологический знак на тему «Будь природе другом!». Дай ему название.



Оценивание:

Задание 1 – 2 балла (1 ошибка – 1 балл, 2 ошибки – 0 баллов)

Задание 2 – 2 балла (1 ошибка – 1 балл, 2 ошибки – 0 баллов)

Задание 3 – 2 балла (1 ошибка – 1 балл, 2 ошибки – 0 баллов)

Задание 4 – 4 балла (за каждый правильный ответ: *температура, облачность, осадки, ветер*)

Задание 5 – 3 балла (за каждый правильный ответ: *деревья, кустарники, травы*)

Задание 6 – 2 балла (1 ошибка – 1 балл, 2 ошибки – 0 баллов)

Задание 7 – 2 балла (1 ошибка – 1 балл, 2 ошибки – 0 баллов)

Задание 8 – 1 балл (за правильный ответ)

Задание 9 – 1 балл (за правильный ответ)

Задание 10 – 1 балл (за правильный ответ: *закрывать кран*)

Задание 11 – 2 балла (1 ошибка – 1 балл, 2 ошибки – 0 баллов)

Задание 12 – 4 балла (за каждый правильный ответ 1 балл)

Задание 13 – 1 балл (за правильный ответ: *связи в природе*)

Задание 14 – 2 балла (1 ошибка – 1 балл, 2 ошибки – 0 баллов)

Задание 15 - 1 балл (за правильный ответ)

Задание 16 – 1 балл (за правильный ответ)

Отметки:

«5» - 28 – 31 балла.

«4» - 21 - 27 баллов.
«3» - 14 – 20 баллов.
«2» - 13 и менее баллов

4 класс

Итоговый тест

Вариант 1

А 1. Что такое линия горизонта?

- 1) всё, что мы видим вокруг 3) граница горизонта, где небо как бы сходится с землёй
 2) граница между сушей и водой 4) поверхность Земли

А 2. Что такое компас?

- 1) спортивное снаряжение
 2) прибор для определения сторон горизонта
 3) прибор для определения температуры воздуха
 4) прибор для определения погоды

А 3. Как называются горы, расположенные рядами?

- 1) горные хребты 2) холмы 3) овраги 4) балки

А 4. В каком городе находятся президент и правительство нашей страны?

- 1) в Санкт-Петербурге 3) в Нижнем Новгороде
 2) в Москве 4) в Калуге

А 5. Где расположена наша страна?

- 1) в Южной Америке 2) в Африке 3) в Австралии 4) в Евразии

А 6. Сколько океанов на Земле?

- 1) четыре 2) пять 3) шесть 4) семь

А 7. В каком году состоялся первый полёт человека в космос?

- 1) в 1949 2) в 1961 3) в 1998 4) в 2008

А 8. Укажи зимние месяцы.

- 1) сентябрь, октябрь, ноябрь 3) март, апрель, май
 2) декабрь, январь, февраль 4) июнь, июль, август

В 1. В какую сторону надо выходить из леса, если заходил туда, двигаясь на юг?

- 1) на север 2) на запад 3) на восток 4) на юг

В 2. Как называется место, отмеченное на рисунке?

- 1) устье 2) берег 3) исток 4) приток

В 3. Укажи вид бабочек.

1) солдатики 2) крапивница 3) вертячка 4) бронзовка

С 1. Какие города находятся не в России?

1) Дели 2) Токио 3) Таруса 4) Лондон

С 2. Какие горы есть в нашей стране?

1) Кавказские 2) Альпы 3) Алтай 4) Уральские

Итоговый тест

Вариант 2

А 1. Что не является стороной горизонта?

1) север 2) юг 3) закат 4) восток

А 2. Какой конец стрелки компаса должен показывать на север?

1) любой 2) синий 3) красный 4) чёрный

А 3. Укажи название неровных участков земной поверхности, которые сильно возвышаются над окружающей местностью.

1) холмы 2) овраги 3) равнины 4) горы

А 4. Как называют углубление, по которому течёт река?

1) приток 2) устье 3) исток 4) рукав

А 5. Где изображён двуглавый орёл?

1) на флаге России 3) на гербе России

2) на флаге Москвы 4) на гербе Москвы

А 6. Какая достопримечательность находится в Москве?

1) Исаакиевский собор 3) Петропавловская крепость

2) Эрмитаж 4) Большой театр

А 7. Какой космонавт совершил первый полёт в космос?

1) В. Терешкова 3) А. Леонов

2) Ю. Гагарин 4) Н. Армстронг

А 8. Какая температура воздуха характерна для летнего дня?

1) +10 °С 2) 0°С 3) +5 °С 4) +25°С

В 1. Какое утверждение верно?

1) Заморозков никогда не бывает весной.

2) Весной на реке появляется лёд.

3) Весной появляются проталины.

4) Птицы весной запасают корм на зиму.

В 2. Какие горы находятся не в нашей стране?

1) Кавказские 2) Уральские 3) Анды 4) Алтай

В 3. Какие цветы цветут на клумбе летом?

1) флоксы 2) гладиолусы 3) георгины 4) астры

С 1. С какой стороны ты зашёл в лес, если выходишь из него на северо-востоке?

1) с юго-востока 3) с северо-востока

2) с юго-запада 4) с северо-запада

С 2. Через какие континенты не проходит экватор?

1) через Африку 3) через Южную Америку

2) через Евразию 4) через Австралию